



ちがいはいくつ

どちらがすくない (しきも かきましょう) 7

ねん

くみ なまえ

りんごと みかんがあります。どちらがなんこ すくないですか。しきを かいて こたえましょう。



しき

$$4 - 2 = 2$$


こたえ

りんご

が

2

こ すくない



しき

$$7 - 3 = 4$$


こたえ

りんご

が

4

こ すくない



しき

$$9 - 3 = 6$$


こたえ

みかん

が

6

こ すくない



しき

$$10 - 3 = 7$$

こたえ

りんご

が

7

こ すくない